

CORRECTION EXERCICES POUSSEE D'ARCHIMEDE

Exercice 16 : 1. C'est un problème de corps flottant :

- **système :** Iceberg
- **Bilan des forces :**

$$\Rightarrow \text{Poids } \vec{P} : P = m g \Rightarrow P = \rho_g \cdot (V_i + V_e) \cdot g$$

$$\Rightarrow \text{Poussée d'Archimède } : \vec{F} \Rightarrow F = \rho_m \cdot V_i \cdot g$$

- **Le système est en équilibre :** $\Sigma \vec{F} = \vec{0}$

$$\vec{P} + \vec{F} = \vec{0} \Rightarrow \vec{P} = -\vec{F}$$

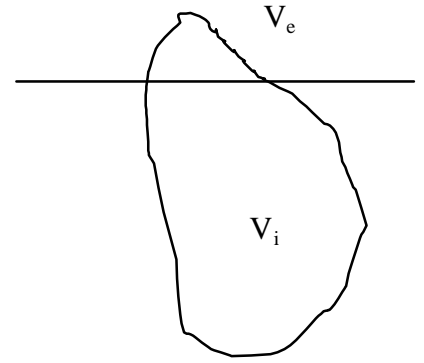
- **Résolution :**

$$P = F \Rightarrow \rho_g \cdot (V_i + V_e) \cdot g = F = \rho_m \cdot V_i \cdot g$$

En simplifiant par g et en divisant membre à membre par V_e et par ρ_e :

$$\frac{\rho_g}{\rho_e} \cdot \left(\frac{V_i + V_e}{V_e} \right) = \frac{\rho_m}{\rho_e} \cdot \frac{V_i}{V_e} \Rightarrow d_g \cdot \frac{V_i}{V_e} + d_g = d_m \cdot \frac{V_i}{V_e} \Rightarrow \frac{V_i}{V_e} = \frac{d_g}{d_m - d_g}$$

$$\Rightarrow \frac{V_i}{V_e} = \frac{0,92}{1,03 - 0,92} \Rightarrow \frac{V_i}{V_e} = 8,36$$



Exercice 17 : 1. C'est un problème de corps flottant :

- **système :** tronc de sapin
- **Bilan des forces :**

$$\Rightarrow \text{Poids } \vec{P} : P = m g \Rightarrow P = \rho_s \cdot S \cdot h \cdot g$$

$$\Rightarrow \text{Poussée d'Archimède } : \vec{F} \Rightarrow F = \rho_e \cdot V_i \cdot g = \rho_e \cdot S \cdot h_i \cdot g$$

- **Le système est en équilibre :** $\Sigma \vec{F} = \vec{0}$

$$\vec{P} + \vec{F} = \vec{0} \Rightarrow \vec{P} = -\vec{F}$$

- **Résolution :**

$$P = F \Rightarrow \rho_s \cdot S \cdot h \cdot g = \rho_e \cdot S \cdot h_i \cdot g$$

En simplifiant par g et en divisant membre à membre par ρ_e :

$$\Rightarrow h_i = h \cdot \frac{\rho_s}{\rho_e} \Rightarrow h_i = 1,35 \text{ m}$$

2. Centre de gravité : au milieu du tronc à 1,50 m du bas

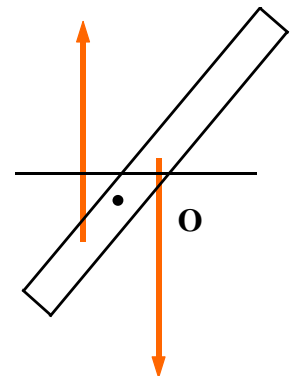
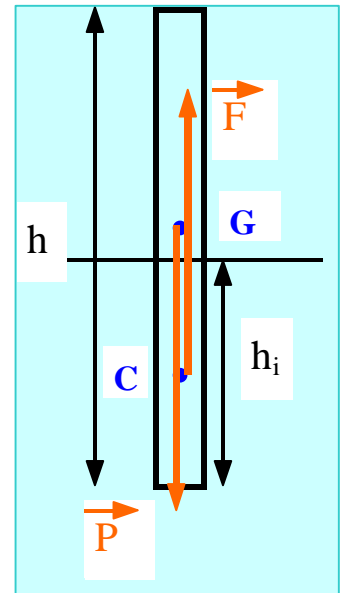
Centre de poussée : c'est le point d'application de la poussée d'Archimède, c'est à dire le **centre de gravité de la partie immergée** : donc à 0,675 m du bas du tronc

L'équilibre est **INSTABLE** : Lorsque le tronc sort de son équilibre, les deux forces forment un couple dont le moment fera tourner le tronc autour de l'axe passant par O, point situé entre G et C.

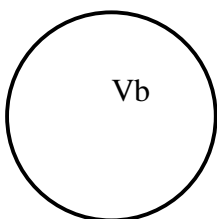
EQUILIBRE INSTABLE : G est situé au-dessus de l'axe de rotation

EQUILIBRE STABLE : G est situé en-dessous de l'axe de rotation

EQUILIBRE INDIFFERENT : G est situé sur l'axe de rotation



Exercice 18 : 1. C'est un problème de corps flottant



- **système :** bulle de savon avec l'hélium

- **Bilan des forces :**

$$\Rightarrow \text{Poids } \vec{P} : P = (m + \rho_{He} \cdot V_b) \cdot g$$

avec $m = 0,1 \text{ g}$ (eau savonneuse)

$$\text{et } \rho_{He} = d \cdot \rho_{air} \text{ sachant que } d = \frac{M}{29} = \frac{4}{29} \text{ donc } d = 0,138$$

⇒ Poussée d'Archimède : $\vec{F} \Rightarrow F = \rho_{\text{air}} \cdot V_b \cdot g$

• **Le système est en équilibre** : $\Sigma \vec{F} = \vec{0} \Rightarrow \vec{P} + \vec{F} = \vec{0} \Rightarrow \vec{P} = -\vec{F}$

• **Résolution** : $P = F \Rightarrow (m + \rho_{\text{He}} \cdot V_b) \cdot g = \rho_{\text{air}} \cdot V_b \cdot g$

En simplifiant par g et en divisant membre à membre par ρ_{air} :

$$\left(\frac{m}{\rho_{\text{air}}} + \frac{\rho_{\text{He}}}{\rho_{\text{air}}} \cdot V_b\right) = V_b \Rightarrow V_b - d \cdot V_b = \frac{m}{\rho_{\text{air}}} \Rightarrow V_b = \frac{m}{\rho_{\text{air}}(1-d)}$$

Donc $V_b = 90 \cdot 10^{-6} \text{ m}^3 \Rightarrow V_b = 90 \text{ cm}^3$

Exercice 19 : 1. C'est un problème de corps flottant

<ul style="list-style-type: none"> • système : tube + pastille • Bilan des forces : <p>⇒ Poids \vec{P} : $P = (m + m') g$</p> <p>⇒ Poussée d'Archimède : \vec{F}_1 $F_1 = \rho_{\text{eau}} \cdot V_i \cdot g = \rho_{\text{eau}} \cdot S \cdot l \cdot g$</p> <ul style="list-style-type: none"> • Le système est en équilibre : $\Sigma \vec{F} = \vec{0}$ $\vec{P} + \vec{F}_1 = \vec{0} \Rightarrow \vec{P} = -\vec{F}_1$ <ul style="list-style-type: none"> • Résolution : <p>$P = F_1$</p>	<ul style="list-style-type: none"> • système : tube + pastille • Bilan des forces : <p>⇒ Poids \vec{P} : $P = (m + m') g$</p> <p>⇒ Poussée d'Archimède : \vec{F}_2 $F_2 = \rho_{\text{liq}} \cdot V_i \cdot g = \rho_{\text{liq}} \cdot S \cdot (l - h) \cdot g$</p> <ul style="list-style-type: none"> • Le système est en équilibre : $\Sigma \vec{F} = \vec{0}$ $\vec{P} + \vec{F}_2 = \vec{0} \Rightarrow \vec{P} = -\vec{F}_2$ <ul style="list-style-type: none"> • Résolution : <p>$P = F_2$</p>
---	---

Comme $P = F_1$
 $P = F_2$

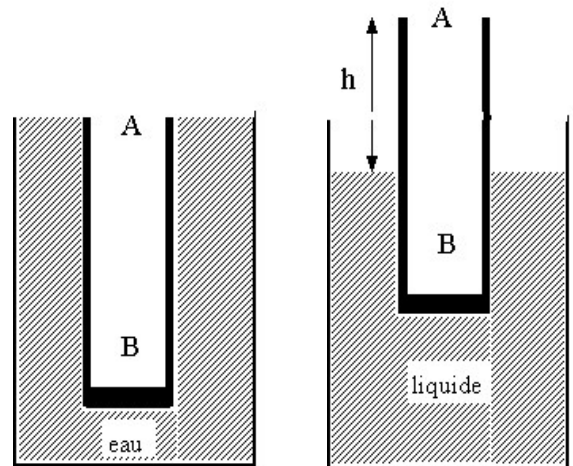
On peut dire que $F_1 = F_2$

Donc : $\rho_{\text{eau}} \cdot S \cdot l \cdot g = \rho_{\text{liq}} \cdot S \cdot (l - h) \cdot g$

En simplifiant par S et g et en divisant chaque membre par ρ_{eau} , on obtient :

$$\frac{\rho_{\text{eau}}}{\rho_{\text{eau}}} \cdot l = \frac{\rho_{\text{liq}}}{\rho_{\text{eau}}} \cdot (l - h) \Rightarrow l = d \cdot l - d \cdot h$$

⇒ $h = \frac{l \cdot (d - 1)}{d} \Rightarrow h = 1,5 \text{ cm}$



2. Forces pressantes exercées par l'eau et le liquide sur le fond du tube : $F = \Delta p \cdot S$

Pour l'eau : $F_{\text{eau}} = \rho_{\text{eau}} \cdot g \cdot l \cdot S =$ déjà écrit : c'est la poussée d'Archimède $= \rho_{\text{eau}} \cdot \pi R^2 \cdot l \cdot g$

$$F_{\text{eau}} = \pi (2 \cdot 10^{-2})^2 \cdot 0,2 \cdot 10 \Rightarrow F_e = 2,5 \text{ N}$$

Pour le liquide : $F_{\text{liq}} = \rho_{\text{liq}} \cdot g \cdot (l - h) \cdot S =$ déjà écrit : c'est la poussée d'Archimède

$$F_{\text{liq}} = F_{\text{eau}} = 2,5 \text{ N}$$

3. déjà écrit plus haut $h = \frac{l \cdot (d - 1)}{d}$

4. comme $l = d \cdot l - d \cdot h$

⇒ $d = \frac{l}{l - h}$ ce qui donne l'allure suivante

si $h_1 = 2,7 \text{ cm} \Rightarrow d_1 = 1,16$

